


MAHARSHI DAYANAND UNIVERSITY ROHTAK  
CLERK-CUM-JUNIOR DATA ENTRY OPERATOR WRITTEN TEST- 2012  
(MORNING SHIFT)

Answer-Key to Question Booklet Set - Y

CODE : C

1 - 4	26 - 4	51 - 1	76 - 2
2 - 2	27 - 3	52 - 3	77 - 2
3 - 1	28 - 2	53 - 4	78 - 2
4 - 4	29 - 3	54 - 1	79 - 4
5 - 3	30 - 1	55 - 1	80 - 4
6 - 1	31 - 4	56 - 4	81 - 3
7 - 4	32 - 3	57 - 1	82 - 4
8 - 4	33 - 4	58 - 2	83 - 4
9 - 3	34 - 4	59 - 3	84 - 3
10 - 2	35 - 4	60 - 3	85 - 2
11 - 4	36 - 1	61 - 3	86 - 3
12 - 2	37 - 2	62 - 4	87 - 2
13 - 4	38 - 3	63 - 2	88 - 1
14 - 2	39 - 3	64 - 1	89 - 1
15 - 4	40 - 3	65 - 3	90 - 1
16 - 2	41 - 2	66 - 1	91 - 2
17 - 1	42 - 2	67 - 3	92 - 1
18 - 2	43 - 1	68 - 2	93 - 2
19 - 4	44 - 2	69 - 4	94 - 1
20 - 2	45 - 2	70 - 3	95 - 4
21 - 4	46 - 3	71 - 4	96 - 3
22 - 1	47 - 1	72 - 4	97 - 2
23 - 2	48 - 3	73 - 3	98 - 4
24 - 4	49 - 3	74 - 2	99 - 1
25 - 2	50 - 2	75 - 1	100 - 4

  
Confidential P. A. In  
Controller of Examinations  
M.D.U., Rohtak-124001

( DO NOT OPEN THIS QUESTION BOOKLET UNTIL YOU ARE ASKED TO DO SO )

(CJDEOT-2012/SET-Y)

Sr. No. 69695

Code

**C**

Time : 90 minutes

Total Questions : 100

Max. Marks : 100

Candidate's Name \_\_\_\_\_

Date of Birth \_\_\_\_\_

Father's Name : \_\_\_\_\_

Mother's Name : \_\_\_\_\_

Roll No. \_\_\_\_\_ (in figure) \_\_\_\_\_ (in words)

Date of Exam : \_\_\_\_\_

(Signature of the Candidate)

(Signature of the Invigilator)

**Candidates MUST read the following instructions carefully before starting the question paper.**

प्रश्न-पत्र हल करने से पूर्व, अभ्यर्थीगण निम्नलिखित अनुदेशों को ध्यानपूर्वक पढ़ लें।

1. **All questions are compulsory.** All questions carry equal marks.

सभी प्रश्न अनिवार्य हैं। सभी प्रश्नों के अंक समान हैं।

2. Before answering the questions, the candidates should ensure that they have been supplied complete question book-lets. Complaints, if any, regarding misprinting etc. will not be entertained **15 minutes** after the start of the test.

प्रश्न-पत्र हल करने से पूर्व, अभ्यर्थीगण यह सुनिश्चित कर लें, कि उन्हें पूरी प्रश्न-पत्रिका मिली है। परीक्षा शुरू होने के 15 मिनट बाद इस सन्दर्भ में कोई शिकायत नहीं सुनी जाएगी।

3. *In case there is any discrepancy in any question(s) in the Question Booklet, the same may be brought to the notice of the Controller of Examinations in writing **within two hours** after the test is over. No such complaint(s) will be entertained thereafter.*

यदि प्रश्न-पत्र में किसी प्रश्न से सम्बन्धित कोई त्रुटि हो तो उस बारे में लिखित सूचना/शिकायत परीक्षा समाप्त होने के दो घन्टे के अन्दर-2, परीक्षा नियंत्रक की सूचना में लाई जाए। इसके उपरान्त ऐसी किसी भी सूचना/शिकायत पर कार्यवाही नहीं होगी।

4. The candidates **MUST** return the complete question book-let and the OMR Answer-Sheet to the Invigilator concerned before leaving the Examination Hall, failing which a case of use of unfair means/misbehaviour will be registered against him/her, in addition to lodging of an FIR with the police. Further the answer-sheet of such candidate will not be evaluated.

परीक्षा हॉल छोड़ने से पूर्व सभी अभ्यर्थीगण अपनी पूरी प्रश्न-पत्रिका व ओ० एम० आर० उत्तर-पत्र सम्बन्धित निरीक्षक को देकर ही जाए। अन्यथा उनके विरुद्ध अनफेयर मीन्स/दूरव्यवहार का केस बनाया जाएगा और साथ ही उनके विरुद्ध पुलिस में एफ० आई० आर० भी लिखवाई जाएगी। ऐसे केस में उस अभ्यर्थी के उत्तर-पत्र की जाँच भी नहीं करवायी जाएगी।

5. The candidates **MUST NOT** do any rough work or writing in the OMR Answer-Sheet. Rough work, if any, may be done in the question book-let itself.

अभ्यर्थीगण ओ० एम० आर० उत्तर पत्र पर कोई रफ कार्य न करें। केवल प्रश्न-पत्रिका में ही रफ कार्य करें।

6. **There will be negative marking.** For every wrong answer  $\frac{1}{4}$  mark will be deducted. In case you are not sure of answer or do not want to attempt any question, leave the space blank under the concerned Question No. in the OMR Answer-Sheet. Cutting, erasing, overwriting and more than one answer in the OMR Answer-Sheet will be treated as wrong answer.

नकारात्मक आंकन होगा। प्रत्येक गलत उत्तर के लिए  $\frac{1}{4}$  (चौथई) अंक कम कर दिया जाएगा। यदि आप सही उत्तर के बारे में आश्वस्त नहीं हैं या किसी प्रश्न का उत्तर नहीं देना चाहते तो उत्तर-पत्र के सम्बन्धित खाने को खाली छोड़ दें। ओ० एम० आर० उत्तर-पत्र पर काट-पीट, मिटाना और एक से अधिक उत्तर गलत माना जाएगा।

7. Use only **blue or black** ball point pen in the OMR Answer-Sheet.

ओ० एम० आर० उत्तर-पत्र पर केवल **नीले या काले** पॉइन्ट पेन का ही प्रयोग करें।





Question No.	Questions
34.	<p>To delete an embedded object, first</p> <ol style="list-style-type: none"> <li>(1) Double click the object</li> <li>(2) Select the object by clicking it</li> <li>(3) Press the Shift + Delete keys</li> <li>(4) Select it and then press the delete key</li> </ol> <p>Embedded आब्जेक्ट को delete करने के लिये पहले आप क्या करते हैं</p> <ol style="list-style-type: none"> <li>(1) Object को डबल क्लिक करना</li> <li>(2) Object को क्लिक करके सेलेक्ट करना</li> <li>(3) Shift + Delete चाबियों को दबायें</li> <li>(4) पहले इसे सेलेक्ट करें और फिर delete चाबी दबायें</li> </ol>
35.	<p>Tab scrolling button</p> <ol style="list-style-type: none"> <li>(1) Allows you to view a different worksheet</li> <li>(2) Allows you to view additional worksheet rows down</li> <li>(3) Allows you to view additional worksheet columns to the right</li> <li>(4) Allows you to view additional sheets tabs</li> </ol> <p>टेब स्करोलिंग बटन निम्न में से क्या करता है</p> <ol style="list-style-type: none"> <li>(1) एक अलग वर्कशीट को देखने के लिये सक्षम बनाता है</li> <li>(2) additional वर्कशीट rows down को देखने के लिये सक्षम बनाता है</li> <li>(3) additional वर्कशीट columns to the right को देखने के लिये सक्षम बनाता है</li> <li>(4) Additional sheets tabs को देखने के लिये सक्षम बनाता है</li> </ol>

Question No.	Questions
36.	<p>A feature of MS Word that saves the document automatically after certain interval is available on</p> <p>(1) Save tab on Options dialog box  (2) Save As dialog box  (3) Both of above  (4) None of above</p> <p>दस्तावेज को निश्चित समय के बाद स्वयं save करने वाला MS Word का feature निम्न में से किस पर मिलता है।</p> <p>(1) Options डायलाग बॉक्स पर Save tab से  (2) Save as डायलाग बाक्स  (3) ऊपर वाले दोनों  (4) ऊपर में से कोई नहीं</p>
37.	<p>A master document contains ....., each of which contains a pointer to a file on a disk ?</p> <p>(1) placeholders (2) subdocuments  (3) book marks (4) references</p> <p>एक master दस्तावेज में ..... होते हैं, जिसमें प्रत्येक डिस्क पर फाइल के लिये pointer होता है</p> <p>(1) placeholders (2) subdocuments  (3) book marks (4) references</p>
38.	<p>Which would you choose to move selected text from one place to another ?</p> <p>(1) Move and Paste (2) Copy and Paste  (3) Cut and Paste (4) Delete and Paste</p> <p>निम्न में से selected text को एक जगह से दूसरी जगह move करने के लिए कौन-सा चुनेंगे।</p> <p>(1) Move and Paste (2) Copy and Paste  (3) Cut and Paste (4) Delete and Paste</p>

Question No.	Questions
39.	<p>Which enables us to send the same letter to different persons ?</p> <p>(1) macros (2) template (3) mailmerge (4) none</p> <p>निम्न में से एक ही पत्र अलग-अलग लोगों को भेजने के लिये कौन-सा सक्षम बनाता है ?</p> <p>(1) मैक्रोज (2) टेम्पलेट (3) मेलमर्ज (4) कोई भी नहीं</p>
40.	<p>Which key on the keyboard can be used to view slide show ?</p> <p>(1) F1 (2) F2 (3) F5 (4) F10</p> <p>कीबोर्ड से किस key का प्रयोग slide show देखने के लिये किया जा सकता है ?</p> <p>(1) F1 (2) F2 (3) F5 (4) F10</p>
41.	<p>नीचे दिए गए विकल्पों में से सही वाक्य छाँटिए।</p> <p>(1) वह सब भले लोग हैं। (2) मनुष्य ईश्वर की अदभुत कृति है। (3) भीड़ में चार जयपुर के व्यक्ति थे। (4) वे सारे गुप्त रहस्य प्रकट कर देगा।</p>
42.	<p>नीचे लिखे वाक्य को चार पदों में बाँटकर क्रमानुसार लिखा गया है। इनमें से एक पद, वाक्य के संदर्भ में, त्रुटियुक्त है। त्रुटियुक्त पद को छाँटिए।</p> <p>मेरे पति कामकार्य के सिलसिले में बहुत व्यस्त रहते हैं।</p> <p>(1) मेरे पति (2) कामकार्य के सिलसिले में (3) बहुत व्यस्त रहते हैं (4) कोई त्रुटि नहीं</p>

Question No.	Questions
43.	<p>निम्नलिखित गद्यांश को पढ़कर इसके नीचे दिए गए उत्तरों में से सही उत्तर को छाँटिए।</p> <p>मेरी आँखों में एक मृतक की परछाईं तैर रही है। मेरी कनपटी में एक खूंखार किसी की जान लेने को आतुर है। वह कल्ले आम कर देने की अंतिम इच्छा रखता है। समाज में आतंक फैलाने को वह अपना धर्म मानता है। उपर्युक्त गद्यांश में किस भाव की अभिव्यक्ति है।</p> <p>(1) हिंसा (2) वेबसी (3) उदासी (4) हताशा</p>
44.	<p>सही अर्थ वाला विकल्प चुनिए।</p> <p>आलय -</p> <p>(1) पाठशाला (2) घर (3) दुकान (4) विश्वविद्यालय</p>
45.	<p>नीचे एक शब्द की वर्तनी के अनेक रूप प्रस्तुत हैं। शुद्ध वर्तनी का चयन कीजिए।</p> <p>(1) कवित्री (2) कवयित्री (3) कवियत्री (4) कवियित्री</p>
46.	<p>Simplify the following.</p> <p><math>15 - 11 \times 14 \div 7 - (-7) = ?</math></p> <p>(1) 44 (2) 14 (3) 0 (4) 15</p> <p>निम्न को सरल करें।</p> <p><math>15 - 11 \times 14 \div 7 - (-7) = ?</math></p> <p>(1) 44 (2) 14 (3) 0 (4) 15</p>



Question No.	Questions
47.	<p>Complete the series.</p> <p>4, 16, 21, 5, 20, 25, 6, 24 —.</p> <p>(1) 29 (2) 30 (3) 18 (4) 7</p> <p>श्रृंखला को पूरा करें।</p> <p>4, 16, 21, 5, 20, 25, 6, 24 —.</p> <p>(1) 29 (2) 30 (3) 18 (4) 7</p>
48.	<p>Complete the analogy.</p> <p>Tractor : Tractor :: Horse : ?</p> <p>(1) Stable (2) Saddle (3) Cart (4) Engine</p> <p>सादृश्य को पूरा करें :</p> <p>ट्रैक्टर : ट्रैलर :: घोड़ा : ?</p> <p>(1) अस्तबल (2) काठी (3) गाड़ी (4) ईजन</p>
49.	<p>Choose the analogous to</p> <p>Butter : Milk</p> <p>(1) Pencil : Lead (2) Class : Student (3) Jaggery : Sugarcane (4) Author : Book</p> <p>सदृश चुनें</p> <p>मक्खन : दूध</p> <p>(1) पेन्सिल : सिक्का (2) कक्षा : विद्यार्थी (3) गुड़ : गन्ना (4) लेखक : पुस्तक</p>





Question No.	Questions
56.	<p>सही अर्थ वाला विकल्प चुनिए।</p> <p>परिचारिका -</p> <p>(1) कार्यकर्ता (2) स्त्री</p> <p>(3) सुन्दरी (4) दासी</p>
57.	<p>निम्नलिखित शब्दों में से कौन-सा शब्द अशुद्ध है ?</p> <p>(1) हिन्दु (2) निरीक्षण</p> <p>(3) निश्चित (4) पड़ोसिन</p>
58.	<p>निम्नलिखित शब्दों में से कौन-सा "अन्धा" शब्द का पर्यायवाची नहीं है ?</p> <p>(1) नेत्रहीन (2) दृष्टगोचर</p> <p>(3) चक्षुविहीन (4) प्रज्ञाचक्षु</p>
59.	<p>निम्नलिखित शब्दों में से "सार्थक" शब्द के विपरीतार्थक शब्द का चयन कीजिए।</p> <p>(1) अनेकार्थक (2) निराकार</p> <p>(3) निरर्थक (4) निरक्षर</p>
60.	<p>सही अर्थ वाला विकल्प चुनिए।</p> <p>दस्यु -</p> <p>(1) दोस्त (2) दुश्मन</p> <p>(3) चोर (4) विद्वान</p>



Question No.	Questions
4.	<p>In PowerPoint, when the mouse pointer appears as ..... this it indicates that Draw Table feature is on</p> <p>(1) Solid plus sign  (2) Solid arrow  (3) I-beam  (4) Pencil</p> <p>PowerPoint में mouse pointer निम्न में से ..... दिखाई देता है जो कि यह बताता है कि Draw Table फीचर on है।</p> <p>(1) Solid plus sign  (2) Solid arrow  (3) I-beam  (4) Pencil</p>
5.	<p>What do you do to start the slide show ?</p> <p>(1) Click on Go  (2) Turn on transition  (3) Click on the slide show icon  (4) All of the above</p> <p>Slide show को शुरू करने के लिये आप क्या करते हैं ?</p> <p>(1) Go को Click करें                      (2) Transition को turn on करें  (3) Slide show को क्लिक करें            (4) उपरोक्त वाले सभी</p>

Question No.	Questions
65.	<p>What is the shortcut key to "Insert Hyperlink" in a document ?</p> <p>(1) Ctrl + H (2) Ctrl + L (3) Ctrl + K (4) None of above</p> <p>एक दस्तावेज में "Insert Hyperlink" के लिये Shortcut चाबी कौन-सी होती है ?</p> <p>(1) Ctrl + H (2) Ctrl + L (3) Ctrl + K (4) उपरोक्त में से कोई नहीं</p>
66.	<p>Some set rules and regulations while working on internet is called :</p> <p>(1) Protocol (2) Internet (3) Intranet (4) WWW</p> <p>Internet पर काम करने के वख्त नियम और विनियमों के सेट (Set) को क्या कहा जाता है :</p> <p>(1) Protocol (2) Internet (3) Intranet (4) WWW</p>
67.	<p>Video-conferencing is used for :</p> <p>(1) talking to each other (2) communication purpose (3) live conversation (4) none</p> <p>विडियो कॉन्फ्रेंसिंग का उपयोग किसलिए किया जाता है :</p> <p>(1) आपस में बात करने के लिए (2) संचारण के लिए (3) सजीव बातचीत के लिए (4) उपरोक्त में से कोई नहीं</p>
68.	<p>VDU is a</p> <p>(1) Input unit (2) Output unit (3) Processing unit (4) Storage unit</p> <p>VDU किस प्रकार की Device है :</p> <p>(1) इनपुट इकाई (2) आउटपुट इकाई (3) प्रोसेसिंग इकाई (4) स्टोरेज इकाई</p>

Question No.	Questions
69.	<p>What does optic fibre use to transmit data :</p> <p>(1) vibrations (2) sound</p> <p>(3) electric current (4) light</p> <p>Optic Fibre में डेटा संचारण के लिए किसका प्रयोग होता है :</p> <p>(1) कंपन (2) ध्वनि</p> <p>(3) विद्युत धारा (4) प्रकाश</p>
70.	<p>What is Binary equivalent of 23 :</p> <p>(1) 1010 (2) 1101</p> <p>(3) 10111 (4) 10101</p> <p>दशमलव नम्बर 23 का बाइनरी equivalent क्या है :</p> <p>(1) 1010 (2) 1101</p> <p>(3) 10111 (4) 10101</p>
71.	<p>Name the Prime Minister of Russia</p> <p>(1) Vladimir Putin (2) Leonid Tibilov</p> <p>(3) Valentin Topov (4) Dmitry Medvedev</p> <p>रुस के प्रधान मन्त्री का नाम बताएं।</p> <p>(1) व्लादीमीर पुतिन (2) लियोनिद तिबिलोव</p> <p>(3) वैलेन्टिन तोपोव (4) दमित्रि मेदवेदेव</p>
72.	<p>Choose the smallest country among the following in area</p> <p>(1) San Marino (2) Tuvalu</p> <p>(3) Nauru (4) Monaco</p> <p>निम्न में क्षेत्र में सबसे छोटे देश को चुनें।</p> <p>(1) सान मेरिनो (2) टुवालु</p> <p>(3) नोरु (4) मोनेको</p>



Question No.	Questions
73.	<p>Excepting China and India, which country has the biggest population in Asia ?</p> <p>(1) Japan (2) Bangladesh (3) Indonesia (4) Pakistan</p> <p>चीन व भारत को छोड़कर एशिया में किस देश की जनसंख्या सर्वाधिक है ?</p> <p>(1) जापान (2) बांग्लादेश (3) इंडोनेशिया (4) पाकिस्तान</p>
74.	<p>Angkorwat temple complex is situated in .....</p> <p>(1) Indonesia (2) Cambodia (3) Thailand (4) Malaysia</p> <p>अंगकोरवाट मन्दिर समूह ..... में स्थित है।</p> <p>(1) इन्डोनेशिया (2) कम्बोडिया (3) थाइलैण्ड (4) मलेशिया</p>
75.	<p>What is the capital of Qatar ?</p> <p>(1) Doha (2) Muscat (3) Kuwait (4) Manama</p> <p>कतर की राजधानी क्या है ?</p> <p>(1) दोहा (2) मस्कट (3) कुवैत (4) मनामा</p>

Question No.	Questions
76.	<p>The chart wizard term data series refers to :</p> <ol style="list-style-type: none"> <li>(1) A chart legend</li> <li>(2) A collection of chart data makers</li> <li>(3) A data label</li> <li>(4) A set of values you plot in a chart</li> </ol> <p>Chart विजार्ड term डाटा सिरिज़ का निम्न में से किससे अभिप्राय है</p> <ol style="list-style-type: none"> <li>(1) एक चार्ट legend</li> <li>(2) Chart data makers का संग्रह</li> <li>(3) एक डाटा लेबल</li> <li>(4) Values का सेट जो आप चार्ट में plot करते हैं</li> </ol>
77.	<p>A typical worksheet has ..... number of columns</p> <ol style="list-style-type: none"> <li>(1) 128</li> <li>(2) 256</li> <li>(3) 512</li> <li>(4) 1024</li> </ol> <p>एक typical worksheet में ..... column होते हैं।</p> <ol style="list-style-type: none"> <li>(1) 128</li> <li>(2) 256</li> <li>(3) 512</li> <li>(4) 1024</li> </ol>



Question No.	Questions
80.	<p>Data can be arranged in a worksheet in a easy to understand manner using</p> <p>(1) auto formatting                      (2) applying styles</p> <p>(3) changing fonts                      (4) all of above</p> <p>आँकड़ों को worksheet में सरल तरीके से निम्न में से किस द्वारा व्यवस्थित किया जा सकता है</p> <p>(1) auto formatting                      (2) applying styles</p> <p>(3) changing fonts                      (4) ऊपर वाले सभी</p>
81.	<p>In a certain code, '786' means 'study very hard' '958' means 'hard work pays' and '645' means 'study and work'. Which is the code for 'very' ?</p> <p>(1) 5    (2) 6</p> <p>(3) 7    (4) 8</p> <p>एक कूट में 786 का अर्थ है 'स्टडी वेरी हार्ड' 958 का अर्थ है 'हार्ड वर्क पेज' तथा 645 का अर्थ है 'स्टडी एण्ड वर्क'। 'वेरी' के लिए क्या कोड है ?</p> <p>(1) 5    (2) 6</p> <p>(3) 7    (4) 8</p>
82.	<p>What % of a day is 2 hours ?</p> <p>(1) 8%    (2) 12%</p> <p>(3) 4.16%    (4) 8.33%</p> <p>दो घण्टे एक दिन का कितना प्रतिशत है ?</p> <p>(1) 8%    (2) 12%</p> <p>(3) 4.16%    (4) 8.33%</p>



Question No.	Questions
85.	<p data-bbox="331 338 989 380">Which alternative does fill up the blank ?</p> <div data-bbox="336 432 945 583"> </div> <div data-bbox="331 638 1054 1041"> <p>(1)  (2) </p> <p>(3)  (4) </p> </div> <p data-bbox="331 1119 800 1161">कौन-सा विकल्प रिक्त स्थान को भरता है ?</p> <div data-bbox="336 1192 945 1344"> </div> <div data-bbox="331 1409 1063 1812"> <p>(1)  (2) </p> <p>(3)  (4) </p> </div>

Question No.	Questions
86.	<p>Which animal figure is not adopted in the National Emblem of India ?</p> <p>(1) Lion (2) Bull (3) Elephant (4) Horse</p> <p>भारत के राष्ट्रीय चिह्न में किस पशु की आकृति को नहीं लिया गया है ?</p> <p>(1) शेर (2) बैल (3) हाथी (4) घोड़ा</p>
87.	<p>On June 1st, 2012 which Vikram Samvat is going on ?</p> <p>(1) 2068 (2) 2069 (3) 2070 (4) 2012</p> <p>जून 1, 2012 को कौन-सा विक्रम संवत् चल रहा है ?</p> <p>(1) 2068 (2) 2069 (3) 2070 (4) 2012</p>
88.	<p>Light travels from the Sun to the Earth approximately in .....</p> <p>(1) 8.3 minute (2) 24 hours (3) 364.4 days (4) One light year</p> <p>सूर्य से पृथ्वी तक प्रकाश लगभग ..... में पहुँच जाता है।</p> <p>(1) 8.3 मिनट (2) 24 घंटे (3) 364.4 दिन (4) एक प्रकाश वर्ष</p>
89.	<p>What is the normal human body temperature ?</p> <p>(1) 36.9°C (2) 98.4°C (3) 100°C (4) 50°C</p> <p>सामान्य मानव शरीर तापमान क्या है ?</p> <p>(1) 36.9°C (2) 98.4°C (3) 100°C (4) 50°C</p>

Question No.	Questions
90.	<p>Which state among the following has the least number of members in Vidhan Sabha ?</p> <p>(1) Sikkim (2) Goa (3) Mizoram (4) Manipur</p> <p>निम्न में किस राज्य की विधान सभा में सबसे कम सदस्य हैं ?</p> <p>(1) सिक्किम (2) गोवा (3) मिज़ोरम (4) मणिपुर</p>
91.	<p>E-mail address separates the username from the ISP using the ..... symbol :</p> <p>(1) &amp; (2) @ (3) % (4) *</p> <p>ई-मेल पता आईएसपी से उपयोगकर्ता के नाम को ..... के द्वारा अलग करता है :</p> <p>(1) &amp; (2) @ (3) % (4) *</p>
92.	<p>Before a disk can be used to store data, it must be :</p> <p>(1) formatted (2) reformatted (3) addressed (4) none of the above</p> <p>डिस्क पर डेटा स्टोर करने से पहले, डिस्क को ..... करना चाहिए :</p> <p>(1) फॉर्मेट (2) रिफॉर्मेट (3) एड्रेसड (4) उपरोक्त में से कोई भी नहीं</p>
93.	<p>When you put on the computer in morning it is called :</p> <p>(1) hot boot (2) cold boot (3) warm boot (4) none of these</p> <p>जब कम्प्यूटर को सुबह on किया जाता है, तो यह ..... कहलाता है :</p> <p>(1) हॉट बूट (2) कोल्ड बूट (3) वार्म बूट (4) उपरोक्त में से कोई भी नहीं</p>

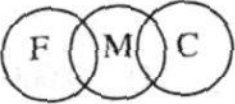


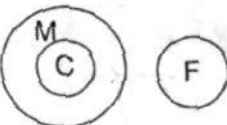
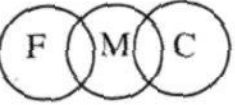


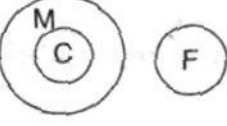




Question No.	Questions
94.	<p>Exploring the world wide web is called :</p> <p>(1) Net surfing (2) Internet explorer (3) Net navigation (4) Netscape Navigator</p> <p>वर्ल्ड वाइड वेब को explore करने को क्या कहा जाता है :</p> <p>(1) Net surfing (2) Internet explorer (3) Net navigation (4) Netscape Navigator</p>
95.	<p>The first part of a complete URL is the ..... needed to access the web resource :</p> <p>(1) address (2) name (3) location (4) protocol</p> <p>संपूर्ण URL का पहला भाग वह ..... होता है, जो वेब संसाधन का उपयोग करने के लिए चाहिए :</p> <p>(1) पता (2) नाम (3) स्थान (4) प्रोटोकॉल</p>
96.	<p>Select the antonym of the word "Replaceable" from the options given below</p> <p>(1) Irreplaceable (2) In replaceable (3) Irreplaceable (4) Unreplaceable</p>
97.	<p>Select the correct antonym of the word "Measurable" from the options given below</p> <p>(1) Inmeasurable (2) Immeasurable (3) Unmeasurable (4) None of the above</p>

Question No.	Questions
98.	<p>Select the option which is antonym of the word "Encryption".</p> <p>(1) Uncryption                      (2) Description (3) De-encryption                  (4) Decryption</p>
99.	<p>Select the option with correct spelling of the word</p> <p>(1) Beleaguer                      (2) Beleagur (3) Beleageur                      (4) Beleagar</p>
100.	<p>Select the option with correct spelling of the word</p> <p>(1) Chauffar                      (2) Chauffer (3) Chouffer                      (4) Chauffeur</p>

Question No.	Questions
9.	<p>Softwares such as explorer and firefox are referred to as</p> <p>(1) System Software                      (2) Utility Software</p> <p>(3) Browsers                                      (4) Internet tools</p> <p>सॉफ्टवेयर जैसे कि explorer एवं firefox क्या कहलाते हैं :</p> <p>(1) सिस्टम सॉफ्टवेयर                      (2) युटिलिटी सॉफ्टवेयर</p> <p>(3) ब्राउज़र्स                                      (4) इन्टरनेट टूल्स</p>
10.	<p>The time elapsed between the initiation of a memory operation and the completion of operation is known as :</p> <p>(1) memory cycle time                      (2) memory access time</p> <p>(3) transfer time                                      (4) skip time</p> <p>किसी memory operation की शुरूआत से लेकर अंत होने के बीच का समय क्या कहलाता है :</p> <p>(1) memory cycle time                      (2) memory access time</p> <p>(3) transfer time                                      (4) skip time</p>
11.	<p>A hawker from a point walks 7 km Eastward to turn left and walks 6 km. From there he moves Southward 7 km to turn right and stops after walking 7 km. How far and in which direction is he now ?</p> <p>(1) 8 km, East                                      (2) 13 km, North</p> <p>(3) 1 km, West                                      (4) 1 km, South</p> <p>एक रेहड़ीवाला एक स्थान से 7 कि.मी. पूर्व की ओर जा कर बाएं मुड़ जाता है और 6 कि.मी. चलता है। वहाँ से दक्षिण की ओर 7 कि.मी. चलता है तथा दाएं मुड़ कर 7 कि.मी. बाद रुक जाता है। वह अब प्रारम्भिक स्थान से कितनी दूर एवं किस दिशा में है ?</p> <p>(1) 8 कि.मी. पूर्व                                      (2) 13 कि.मी. उत्तर</p> <p>(3) 1 कि.मी. पश्चिम                                      (4) 1 कि.मी. दक्षिण</p>

Question No.	Questions
<p><b>12.</b></p>	<p>Which diagram represents ? Father (F), Mother (M), Child (C)</p> <p>(1) </p> <p>(2) </p> <p>(3) </p> <p>(4) </p> <p>कौन-सा चित्र निरूपण करता है ? पिता (F), माता (M), बालक (C)</p> <p>(1) </p> <p>(2) </p> <p>(3) </p> <p>(4) </p>
<p><b>13.</b></p>	<p>Choose the odd one</p> <p>(1) Geometry</p> <p>(2) Algebra</p> <p>(3) Arithmetic</p> <p>(4) Mathematics</p> <p>वेमल घुने</p> <p>(1) ज्यामिति</p> <p>(2) बीजगणित</p> <p>(3) अंकगणित</p> <p>(4) गणित</p>

Question No.	Questions
14.	<p>What is equal to</p> $\frac{0.9 \times 0.01 \times 0.03}{0.27} = ?$ <p>(1) 0.01      (2) 0.001      (3) 0.10      (4) 0.0001</p> <p>_____ के बराबर क्या होगा</p> $\frac{0.9 \times 0.01 \times 0.03}{0.27} = ?$ <p>(1) 0.01      (2) 0.001      (3) 0.10      (4) 0.0001</p>
15.	<p>Find one number from the given alternatives which can fill both question marked spaces :</p> $\frac{\sqrt{625}}{?} = \frac{?}{16}$ <p>(1) 5      (2) 4      (3) 256      (4) 20</p> <p>दिए गए विकल्पों में से ऐसी संख्या चुनें जो दोनों प्रश्न चिन्हित स्थानों को भर सके :</p> $\frac{\sqrt{625}}{?} = \frac{?}{16}$ <p>(1) 5      (2) 4      (3) 256      (4) 20</p>
16.	<p>Who was the first woman to become the Chief Minister of a State in India ?</p> <p>(1) Sarojini Naidu      (2) Sucheta Kriplani</p> <p>(3) Vijai Lakshmi Pandit      (4) Rajkumari Amrit Kaur</p> <p>भारत के किसी राज्य की मुख्य मन्त्री बनने वाली प्रथम महिला कौन थी ?</p> <p>(1) सरोजिनी नायडू      (2) सुचेता कृपलानी</p> <p>(3) विजय लक्ष्मी पंडित      (4) राजकुमारी अमृत कौर</p>

Question No.	Questions
17.	<p>Raman Singh is the Chief Minister of .....</p> <p>(1) Chhattisgarh (2) Tripura</p> <p>(3) Jharkhand (4) Madhya Pradesh</p> <p>रमन सिंह ..... के मुख्य मन्त्री हैं।</p> <p>(1) छत्तीसगढ़ (2) त्रिपुरा</p> <p>(3) झारखण्ड (4) मध्य प्रदेश</p>
18.	<p>What is the total number of nationalized banks in India ?</p> <p>(1) 21 (2) 20</p> <p>(3) 14 (4) 6</p> <p>भारत में राष्ट्रीयकृत बैंकों की कुल संख्या कितनी है ?</p> <p>(1) 21 (2) 20</p> <p>(3) 14 (4) 6</p>
19.	<p>Which state among the following has the highest literacy rate ?</p> <p>(1) Goa (2) Maharashtra</p> <p>(3) Himachal Pradesh (4) Mizoram</p> <p>निम्न में से किस राज्य की साक्षरता दर सर्वाधिक है ?</p> <p>(1) गोवा (2) महाराष्ट्र</p> <p>(3) हिमाचल प्रदेश (4) मिज़ोरम</p>
20.	<p>Who did ransack Somnath temple in 1026 AD ?</p> <p>(1) Mohammad Bin Qasim (2) Mahmud of Ghazni</p> <p>(3) Mohammad Ghorī (4) Genghis Khan</p> <p>सन् 1026 में सोमनाथ मन्दिर को किसने नष्ट किया ?</p> <p>(1) मोहम्मद बिन कासिम (2) महमूद गज़नी</p> <p>(3) मोहम्मद गौरी (4) चंगेज़ ख़ान</p>

Question No.	Questions
21.	<p>निम्नलिखित शब्दों में से शुद्ध शब्द चुनिए।</p> <p>(1) अमववस्या (2) अमवश्या (3) अमावश्या (4) अमावस्या</p>
22.	<p>निम्नलिखित शब्द समूहों में से कौन-सा समूह पूर्णरूप से "उपेक्षा" शब्द का पर्यायवाची है ?</p> <p>(1) अवहेलना, तिरस्कार, उल्लंघन (2) तिरस्कार, लापरवाही, श्लाघा (3) उल्लंघन, उपयुक्त, विरक्ति (4) लापरवाही, अवहेलना, विपरीत</p>
23.	<p>निम्नलिखित शब्दों में से "वादी" शब्द के विपरीतार्थक शब्द का चयन कीजिए।</p> <p>(1) प्रतियोगी (2) प्रतिवादी (3) सहयोगी (4) साम्यवादी</p>
24.	<p>नीचे दिए गए वाक्य में रिक्त स्थान भरने के लिए सही विकल्प चुनिए।</p> <p>..... का नाम जीवन है और स्थिरता का मृत्यु।</p> <p>(1) स्थिति (2) नियति (3) सुमति (4) गति</p>
25.	<p>निम्नलिखित वाक्य में रिक्त स्थान भरने हेतु सही विकल्प का चयन कीजिए।</p> <p>बन्दूक एक उपयोगी ..... है।</p> <p>(1) अस्त्र (2) शस्त्र (3) औजार (4) उपकरण</p>



